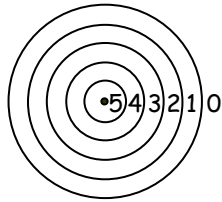


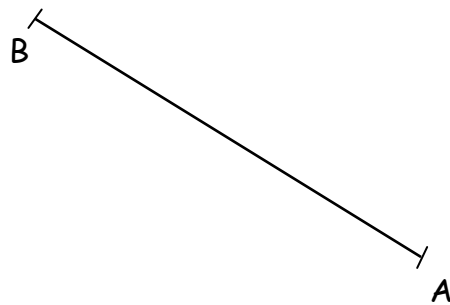
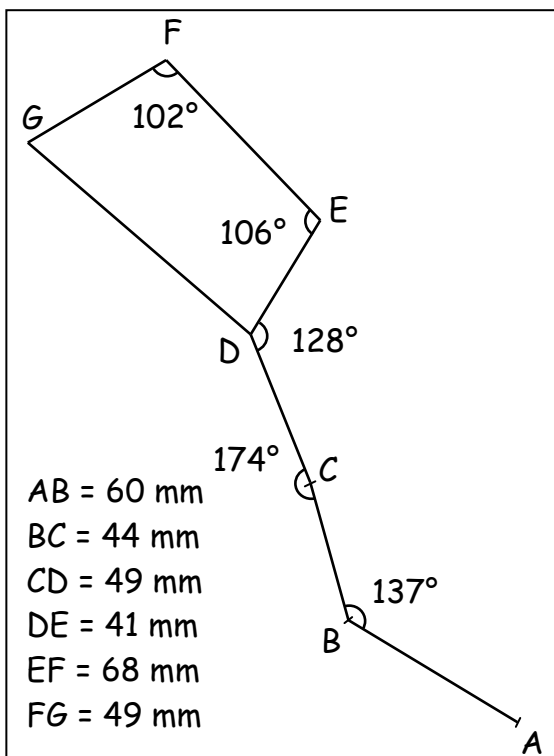
DEVOIR MAISON DE MATHÉMATIQUES à rendre le

LA GRANDE OURSE et LE RAPPORTEUR



En bas et à gauche de cette feuille se trouve une figure (c'est la Grande Ourse). Reproduis-la avec ta règle graduée et ton rapporteur en ne tenant compte que des indications portées sur la figure.

- Nous avons déjà reproduit le segment [AB]. Continue en partant de B.
- Lorsque tu auras fini, trace les diagonales du quadrilatère DEFG. Elles se coupent en un point qui doit tomber au centre de la cible si tes tracés sont précis.



Au dos de cette feuille, faire l'exercice n° 63 p 168 (ne pas effacer les traits de construction)

NOM et Prénom :

6^{ème}