

Chapitre de géographie : habiter les littoraux

Littoral = bord des côtes, zone de contact entre la mer et la terre.

Nous allons étudier 2 formes de littoraux

- Un littoral industrialo- portuaire
- Un littoral touristique

Décrire le littoral 2 page 241	Décrire le littoral 7 page 245
 <p><u>Cancun au Mexique</u></p> <p><u>Eléments naturels</u></p> <p><u>Transformations par l'homme</u></p>	 <p><u>Busan en Corée</u></p> <p><u>Eléments naturels</u></p> <p><u>Transformations par l'homme</u></p>
<p>Littoral touristique ⇒ Paysage transformé par l'homme</p>	<p>Littoral industrialo portuaire ⇒ Paysage transformé par l'homme</p>

[vidéo sur les littoraux : https://www.youtube.com/watch?v=GcMnWLHx5vU](https://www.youtube.com/watch?v=GcMnWLHx5vU)

I) Savoir reconnaître un littoral industrialo portuaire

Etude de cas : le littoral industrielo portuaire de Shenzhen



Doc1



Doc2



Doc3



Doc4

Le port de Shenzhen est un gigantesque port industriel chinois dans lequel sont apportées des millions de tonnes de marchandises (minerai-fer- pétrole..).

Une fois transformées dans les usines du port, les marchandises sont chargées sur des bateaux (porte conteneur – pétrolier- minéralier) et exportés dans le monde entier.

⇒ **C'est la mondialisation.**



Doc5



Doc6

1. Localisez le port de Shenzhen à l'aide de la page 253
2. Quelles sont les activités industrielles visibles sur les 3 premières photos ?
3. Quelle activité est montrée sur le document 4 ?
4. Quelle conséquence est montrée sur les photos 4-5-6 ?
5. Quels sont les différentes sortes de bateaux d'un port industriel ?
6. Que deviennent les produits transformés à Shenzhen ?

Correction du TP

1. Le port de Shenzhen est en Asie, en Chine sur la façade littorale de l'océan pacifique
2. Les activités industrielles visibles sont :
 - Le stockage des conteneurs
 - Les usines
 - Les cuves de d'hydrocarbures
 - Le stockage des minerais
3. Sur le document 4, nous voyons des usines qui transforment les minerais sur place dans le port.
4. Les conséquences sont la destruction de l'environnement (pollution de l'air – pollution de l'eau – destruction des paysages naturels)
5. Il y a des portes conteneurs, des pétroliers, des minéraliers qui transportent chaque jour des millions de tonnes de marchandises
6. Les produits transformés à Shenzhen sont ensuite vendus dans le monde entier => **c'est la mondialisation.**





photo d'un littoral industrialo-portuaire



croquis d'un littoral industrialo-portuaire

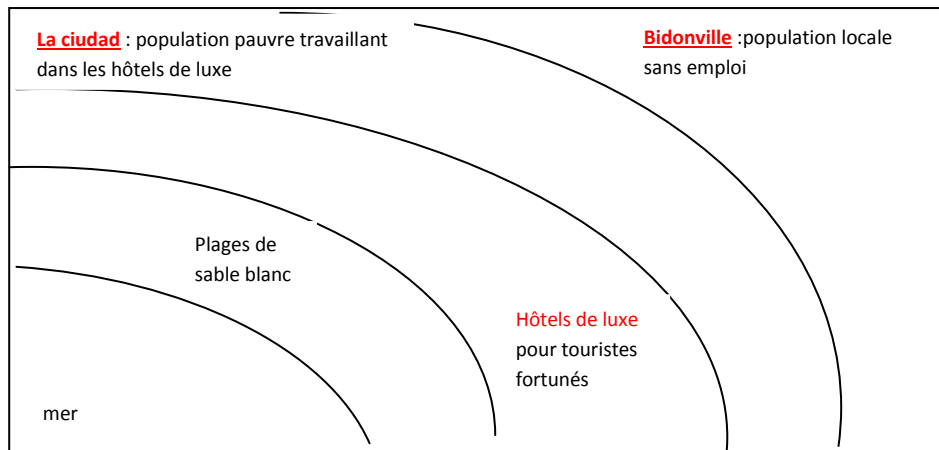
Un littoral industrialo-portuaire permet de stocker et de transformer des millions de tonnes de marchandises .Il accueille de très gros bateaux : porte-conteneurs et pétroliers. Les marchandises sont ensuite exportées partout dans le monde: **c'est la mondialisation.**

Il faut aussi retenir que ces littoraux sont très pollués et détruisent le paysage et l'environnement. Sur ces littoraux il y a beaucoup d'emplois qui sont créés.

II) Savoir reconnaître un littoral touristique

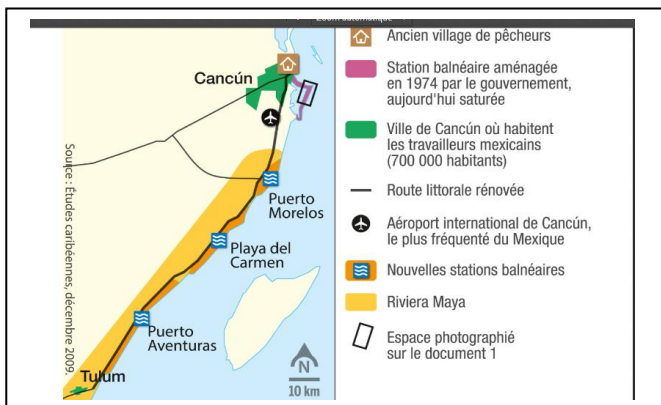
vidéo : cancon tourisme de masse , envers du décor :

https://www.youtube.com/watch?v=m4qlpEfw5_Y



Le tourisme entraîne une **ségrégation de l'espace** des littoraux touristiques dans les pays du sud. Les populations les plus pauvres ne profitent pas du développement touristique.

: le littoral touristique de CANCUN



de la préhistoire jusqu'à la conquête espagnole en 1520.

1 Un nombre grandissant de [...] Mayas, jeunes et instruits, migrent vers les sites touristiques de Cancún et
du littoral caraïbe pour y travailler. [...] Ces migrants forment une armée de guides et d'employés de
l'hôtellerie [...]. Généralement non déclarés, ils sont sous-payés. [...] Mais les membres du groupe âgés et ne
parlant pas l'espagnol restent à l'écart du dynamisme touristique. Cela dit, le tourisme de masse n'a pas que
5 des effets néfastes pour les Mayas. En effet, ces derniers profitent indirectement du développement des
services dans la région tels que les cliniques, marchés d'alimentation modernes, centres de loisirs. [...] Leurs
7 conditions de vie s'améliorent sur les plans sanitaire et éducatif.

Yves Archambault, *Observatoire des Amériques*, 2008.



Littoral touristique de Cancun

Croquis d'un littoral touristique

Avec l'exemple de Cancun, nous avons appris qu'un littoral touristique est aménagé par l'homme pour développer les activités touristiques.

Les paysages ne sont pas naturels et sont transformés par l'homme.

Les populations locales ont parfois des conditions de vie difficiles.

Les activités touristiques polluent (nettoyage du sable...) et détruisent l'environnement (gaspillage de l'eau.)

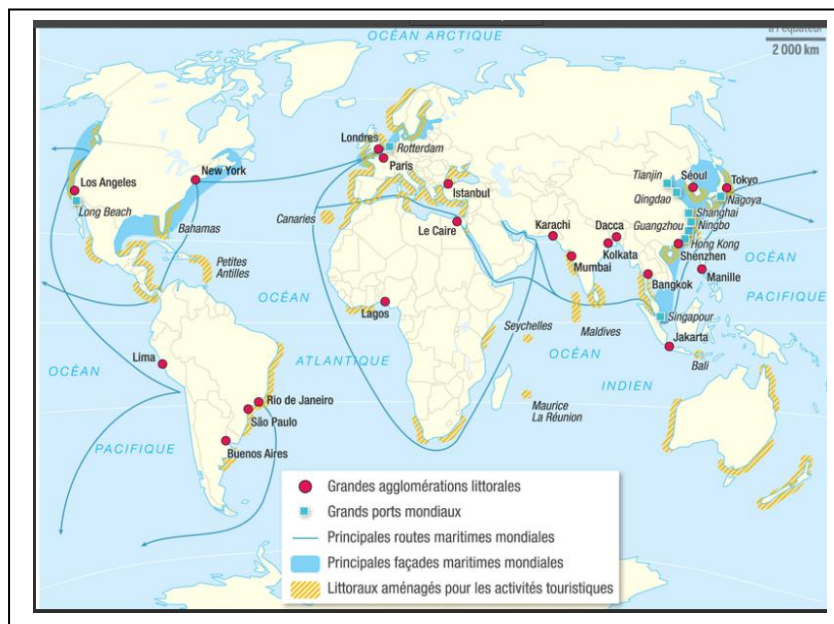
Le tourisme	Conséquences positives	Conséquences négatives
Economie	<ul style="list-style-type: none"> - Création de nombreux emplois - Les touristes dépensent beaucoup d'argent - Enrichissement du pays 	<ul style="list-style-type: none"> - Les salaires sont faibles pour les populations locales - Pas assez de travail pour tout le monde
société	<ul style="list-style-type: none"> - création d'infrastructures (routes-hôpitaux- aéroport- écoles) - modernisation du pays - développement de l'éducation - amélioration de la santé des populations locales 	<ul style="list-style-type: none"> - grande pauvreté d'une partie de la population (bidonvilles)
environnement		<ul style="list-style-type: none"> - Destruction des paysages - Pollutions des eaux - Des tonnes de déchets

III) Mise en perspective sur les littoraux

Tp sur les littoraux

TP sur le planisphère page 253

1. Quelle est la nature de ce document ? Quel est son titre ?
2. En t'aidant de la légende : trouve le nom des principaux littoraux industrialo portuaire dans le monde ?
3. Sur quel continent y a-t-il le plus grand nombre de ZIP ? dans quel pays ?
4. Donne une définition exacte d'un littoral industrialo-portuaire
5. A quelle catégorie de littoraux appartiennent ceux tracés en rose sur le document ?
6. Donne une définition exacte de littoral touristique
7. En t'aidant de ce qui a été expliqué en classe ; pourquoi les grandes métropoles sont elles situées sur les littoraux ? sois le plus précis possible dans ta réponse.
8. En t'aidant de ce qui a été expliqué en classe et de la légende du document : pourquoi tous les littoraux sont ils en danger ? sois le plus précis possible dans ta réponse



Correction du TP

1. Ce document est un planisphère. Son titre est « les littoraux dans le monde »
2. Les principaux littoraux industrialo- portuaires sont :
Mégalopolis – Golfe du Mexique – Mer du nord – mégalopole japonaise –
Chine orientale.
3. C'est en Asie qu'il y a le plus grand nombre de ZIP, en Chine.
4. Un littoral industrialo-portuaire est un littoral qui concentre des activités portuaires et industrielles.
5. Il s'agit des littoraux touristiques
6. Un littoral touristique est un littoral aménagé par l'homme et mis en valeur pour développer le tourisme.
7. Les grandes métropoles sont situées près des littoraux car il y a beaucoup de travail dans les ZIP et les ports. Les conditions de vie sont aussi plus favorables.
8. Les littoraux sont en danger car la pollution est très importante, les paysages sont détruits, la nature est transformée. La pêche vide les océans des ressources naturelles, les milieux marins disparaissent (mort des coraux)



En 2018, les plus grandes métropoles du monde sont situées au bord des littoraux car les activités portuaires ou touristiques créent de nombreux emplois. Les densités de population sont très fortes le long des littoraux.

Les littoraux sont menacés par : la pollution, la destruction de l'environnement, le gaspillage de l'eau.

⇒ On peut donc dire que les littoraux sont en danger.

TP sur le planisphère page 253

9. Quelle est la nature de ce document ? Quel est son titre ?
10. En t'aidant de la légende : trouve le nom des principaux littoraux industrialo-portuaire dans le monde ?
11. Sur quel continent y a-t-il le plus grand nombre de ZIP ? dans quel pays ?
12. Donne une définition exacte d'un littoral industrialo-portuaire
13. A quelle catégorie de littoraux appartiennent ceux tracés en rose sur le document ?
14. Donne une définition exacte de littoral touristique
15. En t'aidant de ce qui a été expliqué en classe ; pourquoi les grandes métropoles sont-elles situées sur les littoraux ? sois le plus précis possible dans ta réponse.
16. En t'aidant de ce qui a été expliqué en classe et de la légende du document : pourquoi tous les littoraux sont-ils en danger ? sois le plus précis possible dans ta réponse

+++++

TP sur le planisphère page 253

1. Quelle est la nature de ce document ? Quel est son titre ?
2. En t'aidant de la légende : trouve le nom des principaux littoraux industrialo-portuaire dans le monde ?
3. Sur quel continent y a-t-il le plus grand nombre de ZIP ? dans quel pays ?

4. Donne une définition exacte d'un littoral industrialo-portuaire
5. A quelle catégorie de littoraux appartiennent ceux tracés en rose sur le document ?
6. Donne une définition exacte de littoral touristique
7. En t'aidant de ce qui a été expliqué en classe ; pourquoi les grandes métropoles sont elles situées sur les littoraux ? sois le plus précis possible dans ta réponse.
8. En t'aidant de ce qui a été expliqué en classe et de la légende du document : pourquoi tous les littoraux sont ils en danger ? sois le plus précis possible dans ta réponse

+++++

TP sur le planisphère page 253

1. Quelle est la nature de ce document ? Quel est son titre ?
2. En t'aidant de la légende : trouve le nom des principaux littoraux industrialo portuaire dans le monde ?
3. Sur quel continent y a-t-il le plus grand nombre de ZIP ? dans quel pays ?
4. Donne une définition exacte d'un littoral industrialo-portuaire
5. A quelle catégorie de littoraux appartiennent ceux tracés en rose sur le document ?
6. Donne une définition exacte de littoral touristique
7. En t'aidant de ce qui a été expliqué en classe ; pourquoi les grandes métropoles sont elles situées sur les littoraux ? sois le plus précis possible dans ta réponse.
8. En t'aidant de ce qui a été expliqué en classe et de la légende du document : pourquoi tous les littoraux sont ils en danger ? sois le plus précis possible dans ta réponse